



I – MATEMÁTICA

A Matemática no Cotidiano

1. Atualmente, a indústria automobilística disponibiliza, no mercado, o carro *flex*, aquele que pode ser abastecido com álcool, ou gasolina, ou ainda com ambos os combustíveis. Nesse sentido, considere as informações abaixo:

Tipo de Combustível	Consumo Médio	Preço por litro
Álcool	8 km/litro	R\$ 1,80
Gasolina	10 km/litro	R\$ 2,70

Sabendo que esse carro encontra-se abastecido somente com um tipo de combustível, analise as proposições a seguir:

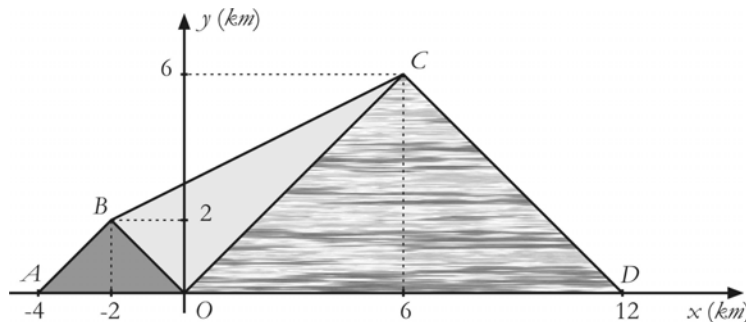
- I. É mais econômico usar apenas álcool.
II. É mais econômico usar apenas gasolina.
III. Usando apenas álcool, serão gastos R\$ 54,00 com esse combustível, para percorrer 240 km.

Está(ão) correta(s) apenas:

- a) I b) II c) III d) I e II e) I e III
2. Em uma fazenda, foram descobertos focos da febre aftosa e da gripe aviária, que afetaram, respectivamente, bovinos e frangos dessa fazenda. Sabe-se que, dentre os animais afetados, a quantidade de frangos era cinco vezes a de bovinos e o total de patas e pés desses animais, 3220. Após a análise dos animais, mesmo não tendo havido mortes, chegou-se à conclusão de que deveriam ser abatidos, dos animais afetados, 10% dos bovinos e 20% dos frangos. O número de animais abatidos foi:
- a) 253 b) 270 c) 322 d) 644 e) 966

RASCUNHO

3. Lelo, Lila e Lula herdaram um terreno na forma do quadrilátero de vértices A, B, C e D , representado na figura ao lado. Esse terreno foi dividido em três partes triangulares: ABO , BCO e CDO , as quais couberam, respectivamente, a Lelo, Lila e Lula. Sendo S_1, S_2 e S_3 , respectivamente, as áreas, em km^2 , das partes herdadas, é correto afirmar:

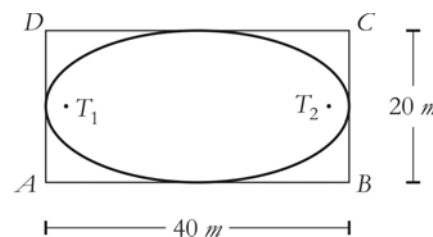


- a) $S_3 = 3S_2$ e $S_2 = 3S_1$
- b) $S_3 = 3S_2$ e $S_2 = 9S_1$
- c) $S_3 = 9S_2$ e $S_2 = 3S_1$
- d) $S_3 = 3S_2$ e $S_2 = 2S_1$
- e) $S_3 = 4S_2$ e $S_2 = 2S_1$

4. Dois dados iguais e honestos, cujas faces com os números pares são de cor preta e as faces com os números ímpares, de cor branca, são lançados simultaneamente sobre um plano horizontal. A probabilidade das faces superiores desses dados terem cores iguais é:

- a) 6/21
- b) 1/4
- c) 1/3
- d) 1/2
- e) 12/21

5. A pista de um autódromo está representada pela curva inscrita no retângulo $ABCD$, cujos lados AB e BC medem $40m$ e $20m$, respectivamente, conforme figura ao lado. Duas torres de controle foram instaladas nos pontos T_1 e T_2 , de modo que a soma das distâncias de qualquer ponto da pista às torres é sempre constante. A distância, em metros, entre as duas torres é:



- a) 10
- b) $10\sqrt{3}$
- c) $20\sqrt{3}$
- d) $15\sqrt{3}$
- e) $18\sqrt{3}$

6. Considere a seguinte situação.

Um pesquisador observou, em um laboratório, a movimentação simultânea de dois camundongos e concluiu que os percursos feitos por eles poderiam ser representados, em um mesmo plano cartesiano, da seguinte maneira: a trajetória de um dos camundongos era a curva formada pelos pontos $P(x, y)$, $y \leq 2$, equidistantes do ponto $F(0, -3/2)$ e da reta $y = -5/2$; e a trajetória do outro era a circunferência de centro $(0, 0)$ e raio 2.

Sabendo-se que cada camundongo passou uma única vez em cada ponto do seu percurso, é correto afirmar que os dois camundongos

- a) não podiam se encontrar.
- b) podiam se encontrar apenas em um ponto.
- c) podiam se encontrar apenas em dois pontos.
- d) podiam se encontrar apenas em três pontos.
- e) podiam se encontrar em quatro pontos.

ATENÇÃO: As questões de 7 a 12 apresentam como resposta valores numéricos, que devem ser assinalados na FOLHA DE RESPOSTAS.

7. Um ornitólogo, para observar o comportamento de uma determinada espécie de pássaro, instalou numa região quatro câmeras em pontos distintos. Para facilitar o seu estudo, representou esses pontos em um sistema de coordenadas cartesianas por $A(0,0)$, $B(1,1)$, $C(2,2)$ e $D(0,2)$, o que despertou curiosidades acerca da localização das câmeras. Nesse contexto, considere as seguintes proposições, identificando as verdadeiras.

- (01) Dentre os pontos A, B, C e D , existem três alinhados.
- (02) Os pontos A, C e D são vértices de um triângulo retângulo.
- (04) O ponto D é equidistante dos pontos A, B e C .
- (08) O ponto B é equidistante dos pontos A e C .
- (16) Uma equação da reta que passa pelos pontos B e D é $x + y + 2 = 0$.

A soma dos valores atribuídos às proposições verdadeiras é igual a

8. Supondo que uma praça tenha a forma e as dimensões da região do plano cartesiano, $G = \{(x,y) \in \mathbb{R}^2 / |x| + |y| \leq 100\}$, com x e y dados em metros, considere as seguintes proposições, identificando as verdadeiras.

- (01) É possível construir, na praça, um jardim circular de raio $60 m$.
- (02) É possível colocar, na praça, 6 postes de iluminação, um deles no centro da praça e os outros nos vértices de um pentágono regular, de modo que cada um esteja distante $100 m$ do poste central.
- (04) A praça tem a forma de um losango.
- (08) A praça tem a forma de um retângulo.
- (16) A área da praça é $10.000 m^2$.

A soma dos valores atribuídos às proposições verdadeiras é igual a

9. Sobre o polinômio $p(x) = x(x-1)(x-2) \dots (x-9)$, analise as proposições abaixo, identificando as verdadeiras.

- (01) $p(x)$ tem dez divisores de grau 1.
- (02) $p(x)$ tem quarenta e cinco divisores de grau 2.
- (04) O produto das raízes de $p(x)$ é igual a $2^7 \times 3^4 \times 5 \times 7$.
- (08) A soma das raízes de $p(x)$ é igual a 45.
- (16) Todas as raízes de $p(x)$ têm multiplicidade 1.

A soma dos valores atribuídos às proposições verdadeiras é igual a

RASCUNHO

10. A chamada “gasolina” utilizada nos automóveis e vendida em postos de combustíveis é, na verdade, uma mistura de gasolina e álcool, sendo 23% o percentual de álcool contido nessa mistura.

Supondo que um recipiente contenha, exatamente, 300 *litros* dessa mistura, quantos *litros* de álcool há nesse recipiente?

11. A representação de um número complexo $z = a + bi$, no plano cartesiano, é o ponto $P(a, b)$. Suponha que os pontos A , B e C sejam as representações das raízes cúbicas da unidade e que o percurso de uma marcha atlética, com 42 *km* de extensão, seja representado pelo triângulo ABC , cujos lados são medidos em *km*.

Use: $\sqrt{3} = 1,73$

Nesse sentido, quantas vezes um atleta, partindo de A , passará pelo ponto B , para completar a prova?

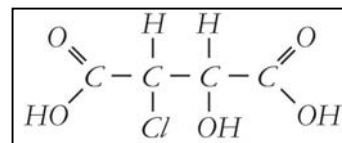
12. Um torneio de tênis será disputado por seis jogadores. A primeira rodada será composta por três partidas, com cada jogador participando, somente, de uma delas.

De quantas maneiras diferentes podem ser formados os pares de jogadores para a primeira rodada?

RASCUNHO

ATENÇÃO: As questões de 19 a 24 apresentam como resposta valores numéricos, que devem ser assinalados na FOLHA DE RESPOSTAS.

19. A isomeria óptica é uma propriedade que ocorre em moléculas assimétricas, por exemplo, no ácido 3-cloro-2-hidroxiбутаноdióico, representado ao lado.

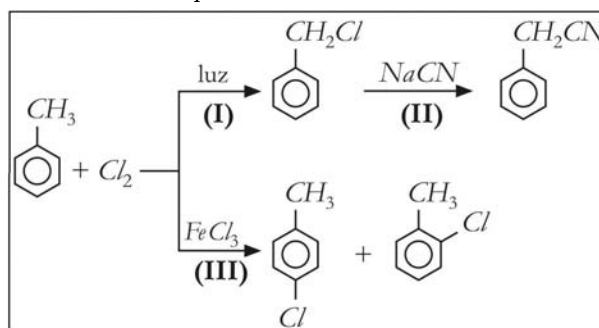


Em relação a esse ácido, considere as seguintes proposições, identificando as verdadeiras.

- (01) A molécula é aquiral.
- (02) O número de isômeros ópticos ativos é igual a 4.
- (04) O número racematos é igual a 2.
- (08) Enantiômeros possuem propriedades físicas iguais, exceto o desvio da luz polarizada.
- (16) Diastereoisômeros formam mistura racêmica.

A soma dos valores atribuídos às proposições verdadeiras é igual a

20. Em muitas reações orgânicas, os produtos formados dependem das condições em que o processo é realizado, como se verifica nas reações mostradas no esquema abaixo.



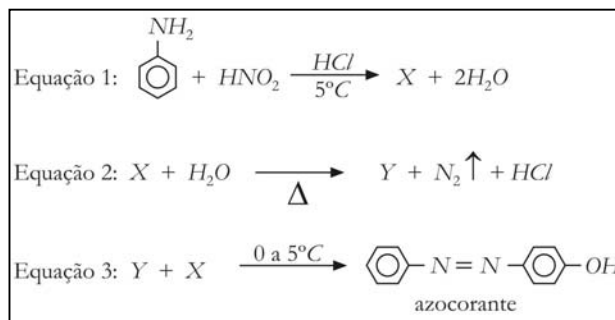
Acerca dessas reações, considere as proposições abaixo, identificando as verdadeiras.

- (01) As reações I, II e III são de substituição.
- (02) A luz, na reação de preparação do cloreto de benzila, tem a função de promover a quebra heterolítica da ligação Cl-Cl, formando íons Cl^+ e Cl^- .
- (04) O nucleófilo, na reação de preparação da fenil acetonitrila, é o íon cianeto.
- (08) O eletrófilo, na reação de preparação do *para*-cloro tolueno e *orto*-cloro tolueno, foi produzido pela reação: $FeCl_3 + Cl_2 \rightarrow FeCl_4^- + Cl^+$.
- (16) Os compostos *para*-cloro tolueno e *orto*-cloro tolueno foram produzidos em consequência do efeito diretor orto/para do grupo metil.

A soma dos valores atribuídos às proposições verdadeiras é igual a

RASCUNHO

21. As aminas, industrialmente, são usadas na fabricação de certos tipos de sabão, na vulcanização da borracha e em inúmeras sínteses orgânicas, por exemplo, na preparação do *azocorante*, que ocorre conforme as reações representadas pelas equações ao lado.



Sobre as reações, considere as proposições abaixo, identificando as verdadeiras.

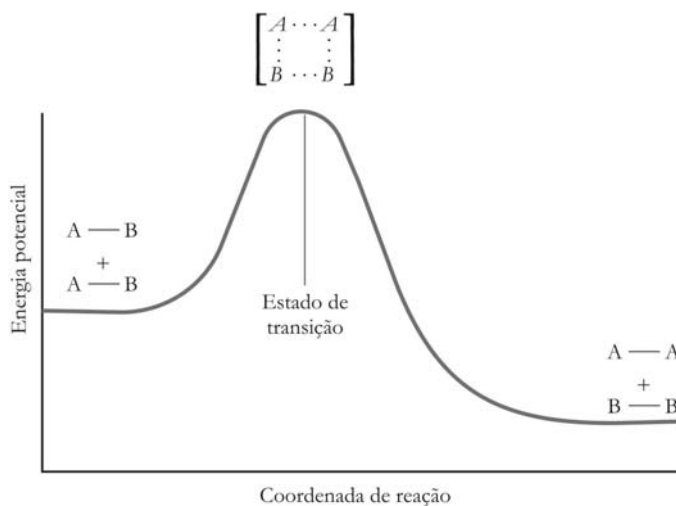
- (01) O produto X é cloreto de benzeno-diazônio.
- (02) O composto X sofre hidrólise, produzindo o álcool Y.
- (04) HNO_2 é chamado *ácido nítrico*.
- (08) A reação representada, na equação 1, é uma diazotização.
- (16) A reação, representada na equação 3, é chamada de reação de acoplamento.

A soma dos valores atribuídos às proposições verdadeiras é igual a

22. As reações químicas acontecem no nível molecular. Por isso, modelos cinéticos são propostos para que se possa entender, microscopicamente, o que ocorre durante o curso de uma reação química. Um desses modelos é chamado de *Teoria do Complexo Ativado*, como pode ser observado na figura abaixo.

Sobre a *Teoria do Complexo Ativado*, considere as seguintes proposições, identificando as verdadeiras.

- (01) A energia de ativação é a energia necessária, para que os reagentes atinjam o complexo ativado.
- (02) Dois fatores devem ser levados em consideração, para que uma reação química aconteça: a energia cinética média das moléculas dos reagentes deve ser superior à energia de ativação da reação e a orientação das moléculas dos reagentes, no instante da colisão, deve ser, espacialmente, favorável.
- (04) O complexo ativado é uma estrutura molecular intermediária, que pode ser isolada experimentalmente, permitindo seu estudo em laboratório.
- (08) Reações químicas lentas apresentam energia de ativação elevada.
- (16) O sinal da energia de ativação depende da reação ser exotérmica ou endotérmica.



A soma dos valores atribuídos às proposições verdadeiras é igual a

23. A entalpia de uma reação, uma medida essencialmente experimental e, às vezes, de difícil obtenção, pode ser calculada pela *lei de Hess*, a partir das entalpias de formação das substâncias reagentes. Nesses casos, é necessário fazer-se uma estimativa do valor dessa medida de energia para o composto, usando-se nos cálculos as entalpias médias de ligação dos átomos envolvidos. A tabela ao lado apresenta alguns valores de entalpias de ligação.

Ligação	$\Delta H_{\text{ligação}} \text{ (kcal mol}^{-1}\text{)}$
Cl-Cl	58
H-C	99
H-Cl	103
C-Cl	78

Com base na tabela, qual o valor de variação de entalpia, ΔH_r , em kcal mol^{-1} , estimado para a reação $CH_3Cl + HCl \rightarrow CH_4 + Cl_2$?

24. Um químico deseja preparar 507 mL de uma solução aquosa saturada de $SrCO_3$ [$K_{ps}(SrCO_3 \text{ a } 25^\circ C) = 16 \times 10^{-10}$]. Qual a massa do sal, em miligramas, que deve ser usada na preparação dessa solução?

RASCUNHO

Tabela Periódica																					
CLASSIFICAÇÃO PERIÓDICA DOS ELEMENTOS																					
(COM MASSAS ATÔMICAS REFERENTES AO ISÓTOPO 12 DO CARBONO)																					
1 1A 1 H 1,0	2 2A 4 He 4,0															13 3A 5 B 11,0	14 4A 6 C 12,0	15 5A 7 N 14,0	16 6A 8 O 16,0	17 7A 9 F 19,0	18 0 10 Ne 20,0
11 3 Na 23,0	12 4 Mg 24,0	3 3B	4 4B	5 5B	6 6B	7 7B	8 8B	9	10	11 1B	12 2B	13 Al 27,0	14 Si 28,0	15 P 31,0	16 S 32,0	17 Cl 35,5	18 Ar 40,0				
19 K 39,0	20 Ca 40,0	21 Sc 45,0	22 Ti 48,0	23 V 51,0	24 Cr 52,0	25 Mn 55,0	26 Fe 56,0	27 Co 59,0	28 Ni 59,0	29 Cu 63,5	30 Zn 65,0	31 Ga 70,0	32 Ge 73,0	33 As 75,0	34 Se 79,0	35 Br 80,0	36 Kr 84,0				
37 Rb 85,5	38 Sr 88,0	39 Y 89,0	40 Zr 91,0	41 Nb 93,0	42 Mo 96,0	43 Tc (99)	44 Ru 101,0	45 Rh 103,0	46 Pd 106,0	47 Ag 108,0	48 Cd 112,0	49 In 115,0	50 Sn 119,0	51 Sb 122,0	52 Te 128,0	53 I 127,0	54 Xe 131,0				
55 Cs 133,0	56 Ba 137,0	57-71 Série dos Lantanídeos	72 Hf 178,5	73 Ta 181,0	74 W 184,0	75 Re 186,0	76 Os 190,0	77 Ir 192,0	78 Pt 195,0	79 Au 197,0	80 Hg 201,0	81 Tl 204,0	82 Pb 207,0	83 Bi 209,0	84 Po (210)	85 At (210)	86 Rn (222)				
87 Fr (223)	88 Ra (226)	89-103 Série dos Actinídeos	104 Rf (261)	105 Db (262)	106 Sg (263)	107 Bh (262)	108 Hs (265)	109 Mt (266)													
Nº Atômico		Série dos Lantanídeos																			
Símbolo		La	Ce	Pr	Nd	Pm	Sm	Eu	Gd	Tb	Dy	Ho	Er	Tm	Yb	Lu					
Massa Atômica		138,0	140,0	141,0	144,0	(147)	150,0	152,0	157,0	158,0	162,5	165,0	167,0	169,0	173,0	175,0					
Massa Atômica		Série dos Actinídeos																			
Símbolo		Ac	Th	Pa	U	Np	Pu	Am	Cm	Bk	Cf	Es	Fm	Md	No	Lr					
Massa Atômica		(227)	232,0	(231)	(238)	(237)	(242)	(243)	(247)	(247)	(251)	(254)	(253)	(256)	(253)	(257)					

Dados: Constante de Avogadro = $6,0 \times 10^{23}$ átomos.mol⁻¹
 Produto iônico da água, K_w , a 25 °C = $1,0 \times 10^{-14}$
 F = 96500 Coulombs R = 0,082 atm.L.mol⁻¹.K⁻¹

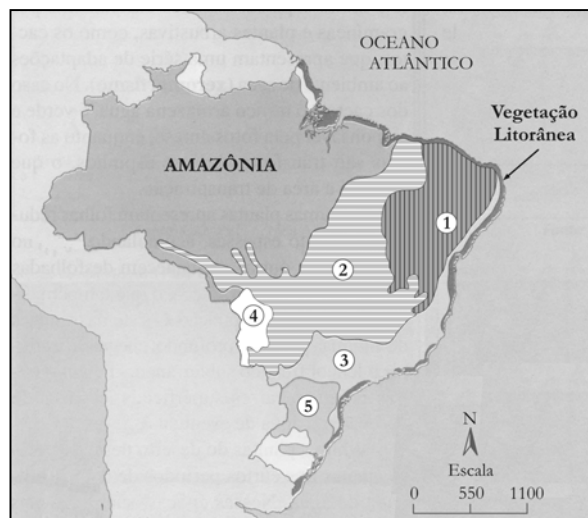
III – BIOLOGIA

Os Elos de Integração da Vida

25. Observe o mapa ao lado, no qual parte das regiões fitogeográficas brasileiras está identificada por números.

A correspondência correta entre o nome e o número de cada região está indicada em:

	Região 1	Região 2	Região 3	Região 4	Região 5
a)	Mata Atlântica	Campos Cerrados	Mata de Araucária	Pampas	Pantanal
b)	Caatinga	Campos Cerrados	Mata Atlântica	Pantanal	Mata de Araucária
c)	Caatinga	Mata Atlântica	Mata de Araucária	Pantanal	Pampas
d)	Campos Cerrados	Caatinga	Pampas	Mata de Araucária	Pantanal
e)	Mata Atlântica	Mata de Araucária	Campos Cerrados	Pantanal	Pampas



26. Teóricos como os cientistas Georgyi F. Gause e Charles Elton realizaram experimentos e observações, com base nos quais foram propostos vários conceitos da Ecologia. Associe cada conceito ecológico citado na coluna da esquerda ao respectivo experimento descrito sucintamente na coluna da direita.

CONCEITOS

- (1) Dinâmica das populações
- (2) Princípio de exclusão competitiva
- (3) Nicho ecológico
- (4) Mutualismo
- (5) Co-adaptação

EXPERIMENTOS

- () Os protozoários *Paramecium caudatum* e *Paramecium aurelia* cresciam normalmente em tubos de ensaio separados, mas um deles se extinguiu quando cultivados em um mesmo tubo de ensaio.
- () *Paramecium caudatum*, habitante da coluna do líquido da cultura, e *Paramecium bursaria*, habitante da parede do tubo em que foi realizada a cultura, conviviam, normalmente, em um mesmo tubo de ensaio.
- () Espécimes de *Paramecium caudatum* e seu predador, um didíneo (outra espécie de paramécio), foram colocados em um tubo de ensaio contendo o líquido da cultura e resíduos acumulados no fundo, onde *Paramecium caudatum* poderia se proteger. A observação da cultura registrou uma redução na população de *Paramecium caudatum* e um aumento da população do didíneo, seguido da redução e extinção deste último e do aumento da população de *Paramecium caudatum*, decorrente da multiplicação dos espécimes que ficaram protegidos entre as partículas de resíduos.

A seqüência correta da associação obtida é:

- a) 2, 3, 1 b) 1, 4, 2 c) 4, 5, 1 d) 2, 4, 5 e) 1, 3, 4

27. O albinismo, na espécie humana, é um caráter determinado por alelo autossômico recessivo. Um homem albino e uma mulher normal de ascendência ignorada têm dois filhos normais e estão preocupados com a probabilidade de virem a ter o terceiro filho afetado pelo albinismo.

Considerando essas informações, é correto afirmar que a probabilidade de o terceiro filho do casal ser albino é

- a) nula, porque a mulher é homozigota dominante para o caráter em questão.
 - b) nula, porque o caráter albinismo é recessivo e a mulher é normal.
 - c) 1 (um), porque o casal já teve dois filhos normais.
 - d) 1/4.
 - e) 1/2.
28. Considere três diferentes tipos de moléculas de ácido ribonucleico (RNA) que ocorrem em organismos eucariotos: RNA ribossômico (**RNAr**), RNA transportador (**RNAt**), RNA mensageiro (**RNAm**).
- Sobre os distintos tipos de RNA citados, é correto afirmar que as moléculas de
- a) RNAr recém sintetizadas se unem a proteínas específicas vindas do citoplasma, para formarem os nucléolos, estruturas nucleares responsáveis pela síntese de proteínas.
 - b) RNAt têm, em uma de suas extremidades, uma trinca de bases, o anticódon, por meio do qual se liga ao RNAm.
 - c) RNAt, independente do seu anticódon, possuem uma região molecular que se liga a um aminoácido qualquer e o transporta para os ribossomos.
 - d) RNAm têm a informação para a síntese de proteínas codificada na forma de pares de bases nitrogenadas denominadas códon.
 - e) RNAt com anticódon UAC ligam-se ao códon ATG do RNAm.
29. Nos seres humanos, uma única célula, o zigoto, dá origem a muitos tipos celulares que podem ser tão diferentes quanto, por exemplo, uma célula epitelial de revestimento e um neurônio qualquer. Essas diferenças se estabelecem principalmente porque, em cada um dos tipos celulares distintos, são também diferentes
- a) as moléculas de DNA.
 - b) as seqüências gênicas.
 - c) os genes que se expressam.
 - d) o código genético.
 - e) os mecanismos envolvidos na síntese de proteínas.

30. A cor do pêlo, em cobaias, pode ser marrom ou negra, e a textura do pêlo pode ser lisa ou crespa. Essas características são determinadas geneticamente.

Em um cruzamento entre cobaias puras de cor negra e pêlo liso com cobaias puras de cor marrom e pêlo crespo, obtiveram-se 15 descendentes, todos negros e de pêlos lisos. O cruzamento entre duas cobaias da geração F₁ produziu 18 descendentes com os seguintes fenótipos:

10 com pêlos negros e lisos.
 03 com pêlos negros e crespos.
 04 com pêlos marrons e lisos.
 01 com pêlos marrons e crespos.

De acordo com essas informações, é correto afirmar que

- a) o alelo que determina a cor do pêlo negro é recessivo em relação ao alelo que determina a cor do pêlo marrom.
- b) não é possível determinar a existência de dominância entre os alelos responsáveis pela textura do pêlo.
- c) as proporções obtidas em F₂ estão de acordo com o esperado pela lei da segregação independente: os alelos que condicionam a cor dos pêlos segregam-se independentemente daqueles que condicionam a textura.
- d) não existe probabilidade de nascerem descendentes marrons de pêlos crespos, a partir do cruzamento entre qualquer um dos indivíduos negros de pêlos crespos da geração F₂ com um duplo recessivo para os caracteres em questão.
- e) não existe probabilidade de nascerem descendentes marrons de pêlos lisos, a partir do cruzamento entre qualquer um dos indivíduos marrons de pêlos lisos da geração F₂ com um duplo recessivo para os caracteres em questão.

ATENÇÃO: As questões de 31 a 36 apresentam como resposta valores numéricos, que devem ser assinalados na FOLHA DE RESPOSTAS.

31. Sobre os ciclos biogeoquímicos, analise as proposições, a seguir, identificando as verdadeiras.

- (01) O carbono que compõe o corpo dos organismos vivos chega até eles, através da fotossíntese, da quimiossíntese e do consumo de outros organismos ou de seus produtos.
- (02) A atmosfera é uma via importante no ciclo do carbono, do nitrogênio e do fósforo.
- (04) A expressão “Ciclos Biogeoquímicos” é utilizada para se referir ao movimento de um determinado elemento químico, através do corpo dos organismos e dos ambientes físicos do nosso planeta.
- (08) As plantas, através da transpiração, liberam vapor de água para a atmosfera, sendo esse vapor parte do ciclo da água e uma importante contribuição para a manutenção de condições favoráveis à vida no nosso planeta.
- (16) A forma mais comum de absorção do nitrogênio pelos organismos é o nitrogênio molecular (N_2), abundante na atmosfera, mas vários grupos de plantas precisam da interferência de bactérias fixadoras e bactérias nitrificantes para a obtenção desse elemento químico.

A soma dos valores atribuídos às proposições verdadeiras é igual a

32. Sobre as hipóteses acerca da Terra primitiva e da origem da vida no nosso planeta, analise as proposições, a seguir, identificando as verdadeiras.

- (01) Segundo uma das hipóteses mais aceitas sobre a origem e evolução da vida na Terra, apareceram, inicialmente, seres quimioautotróficos similares às Arqueas atuais, a partir dos quais teriam-se originado os fermentadores, em seguida, os fotossintetizadores e, finalmente, os aeróbios.
- (02) A hipótese autotrófica estabelece que não havia na Terra primitiva moléculas orgânicas em quantidade suficiente, para sustentar a multiplicação dos primeiros seres vivos, e que estes produziam substâncias orgânicas, a partir da energia liberada de reações químicas entre compostos inorgânicos da crosta terrestre.
- (04) Acredita-se que o aparecimento da fotossíntese não é um dos primeiros passos na formação da vida na Terra, e o seu aparecimento precedeu o desenvolvimento dos seres aeróbios.
- (08) Supõe-se que a crosta terrestre e a atmosfera primitivas foram enriquecidas com uma grande quantidade de metais e gases, como o nitrogênio e o oxigênio, trazidos pelo constante bombardeio de meteoros sofrido pelo planeta em formação, o que, mais tarde, possibilitou o aparecimento da vida, para a qual esses gases foram indispensáveis.
- (16) Alguns cientistas acreditam que a vida tenha-se originado na Terra, a partir de reações ocorridas na atmosfera primitiva, as quais teriam produzido compostos orgânicos precursores, o que foi, em parte, demonstrado experimentalmente.

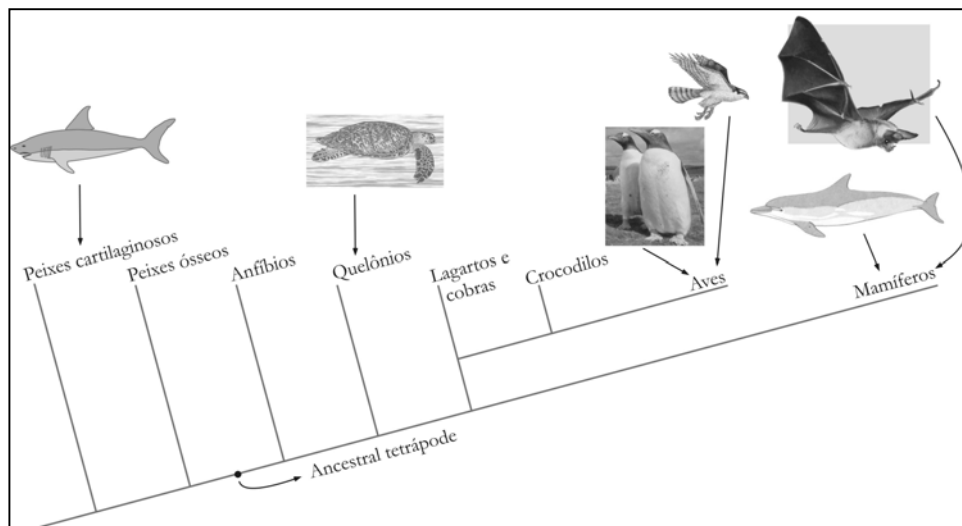
A soma dos valores atribuídos às proposições verdadeiras é igual a

33. Sobre a origem dos grandes grupos de seres vivos, analise as proposições, a seguir, identificando as verdadeiras.

- (01) Os primeiros grupos de seres vivos, segundo uma das hipóteses sobre a origem da vida, eram seres procarióticos fermentadores, como as Cianobactérias atuais.
- (02) Pesquisadores que defendem a hipótese endossimbiótica acreditam que a capacidade de realizar respiração aeróbia das células eucarióticas tenha surgido, a partir da incorporação de procariotos aeróbios às células eucarióticas ancestrais, e que estes procariotos teriam originado as mitocôndrias.
- (04) Um ancestral multicelular teria dado origem, por um lado, à linhagem que originou os Poríferos, e, por outro, à linhagem dos Eumetazoa, que corresponde a todos os animais diblásticos e triblásticos.
- (08) Os Craniados (Vertebrados) teriam-se originado, a partir de uma espécie de invertebrado que teria também dado origem às Ascídias e aos Anfioxos.
- (16) Os Tetrapoda teriam-se originado, a partir de um grupo de peixes denominado Actinopterygii (Actinopterygios).

A soma dos valores atribuídos às proposições verdadeiras é igual a

34. As figuras e o cladograma, ao lado, destacam quatro grupos de organismos cujas histórias evolutivas são distintas, fato denotado por sua morfologia, por seus hábitos e pela história evolutiva expressa no cladograma. Atente para o fato de que homólogias são decorrentes de herança, a partir de um ancestral comum, e que analogias são decorrentes de convergência evolutiva.



Analisando as informações apresentadas, identifique, dentre as proposições a seguir, as verdadeiras:

- (01) Os elementos ósseos que compõem o apêndice anterior de tartarugas, gaviões e morcegos são estruturas homólogas.
- (02) As asas de pinguins e nadadeiras de tartarugas são órgãos análogos, mas não homólogos, visto que são novidades evolutivas produzidas em linhagens independentes, embora sejam formados pelos mesmos elementos ósseos do ancestral tetrápode.
- (04) As nadadeiras peitorais dos tubarões e dos golfinhos são órgãos análogos, mas não homólogos, porque foram formados em ancestrais diferentes.
- (08) As asas de pinguins e de gaviões são órgãos homólogos, mas não análogos.
- (16) As semelhanças entre a forma do corpo dos tubarões e dos golfinhos decorrem de herança a partir de um ancestral comum, sendo, portanto, homólogos.

A soma dos valores atribuídos às proposições verdadeiras é igual a

35. Sobre os aspectos anatômicos e fisiológicos característicos da espécie humana, analise as proposições, a seguir, identificando as verdadeiras.

- (01) O sangue venoso passa do átrio direito para o ventrículo direito e de lá é bombeado para a artéria pulmonar.
- (02) As etapas do processo digestivo, **absorção de nutrientes e adição da bile e do suco pancreático ao suco digestivo**, ocorrem no intestino delgado.
- (04) Os hormônios tróficos, que regulam o funcionamento de várias glândulas endócrinas, são produzidos pelo hipotálamo e pela neuro-hipófise.
- (08) O sistema nervoso central e o sistema nervoso periférico são constituídos, respectivamente, pelo **encéfalo e medula espinhal** e pelos **nervos cranianos e espinhais**.
- (16) O filtrado glomerular, no processo de filtração ocorrido no néfron, percorre seqüencialmente a cápsula do glomérulo renal, o túbulo contorcido proximal, o segmento delgado e o túbulo contorcido distal.

A soma dos valores atribuídos às proposições verdadeiras é igual a

36. Vários hormônios controlam as atividades do trato digestório e de seus órgãos acessórios. Nesse sentido, identifique entre as proposições, a seguir, as que exemplificam hormônios que exercem ação sobre os processos digestivos.

- (01) Bile, que age na emulsificação das gorduras.
- (02) Colecistoquinina, que age na liberação de enzimas digestivas pelo pâncreas.
- (04) Gastrina, que estimula a secreção de HCl e pepsina.
- (08) Secretina, que estimula a secreção de sucos pancreáticos.
- (16) Bicarbonato, que neutraliza ácidos no duodeno.

A soma dos valores atribuídos às proposições verdadeiras é igual a

Obs.: As figuras utilizadas foram adaptadas de: HILDEBRAND, M. **Analysis of vertebrate structure**. New York: John Wiley & Sons, 1987. LOPES, S. **Bio**. v. 3, São Paulo: Saraiva, 2002. SOLOMON, E. P.; BERG, L. R.; MARTIN, D. W.; VILLEE, C. **Biology**. 4 ed. New York: Saunders College Publishing, 1996. PURVES, W. K.; SADAVA, D.; ORIANS, G. H.; HELLER, H. C. **Vida**. A ciência da biologia. 6 ed. Porto Alegre: Artmed, 2005.